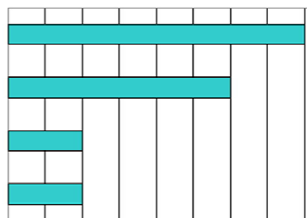


Домашнее задание «Диаграммы и графики»

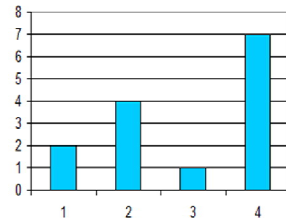
1. Дан фрагмент электронной таблицы в режиме отображения формул:

	A	B	C	D
1	3	=A1+1	1	
2	=B1-A1	=A1-A2*2	=A1+B2	=B1/2

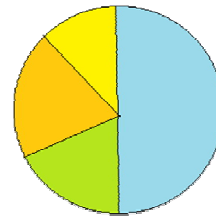
После выполнения вычислений по значениям ячеек диапазона A2:D2 была построена диаграмма. Укажите получившуюся диаграмму:



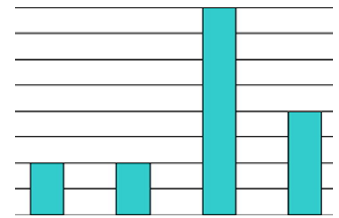
а)



б)



в)

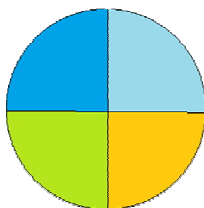


г)

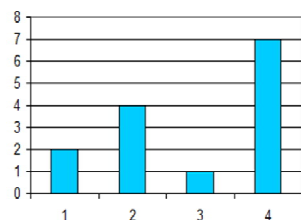
2. Дан фрагмент электронной таблицы в режиме отображения формул:

	A	B
1	1	2
2	=B1-A1	=2*B1
3	=(A2+B1+B2)/B4	1
4	=B2/B1+B3	7
5		

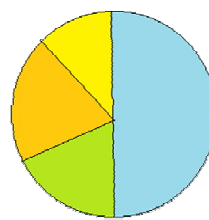
После выполнения вычислений по значениям ячеек диапазона A1:A4 была построена диаграмма. Требуется найти получившуюся диаграмму среди приведённых ниже образцов



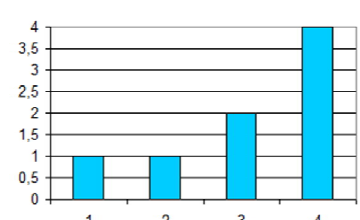
а)



б)



в)



г)